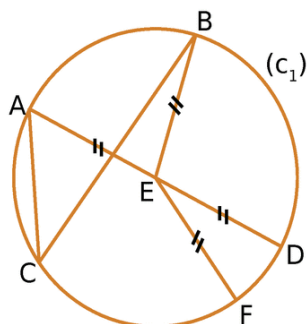
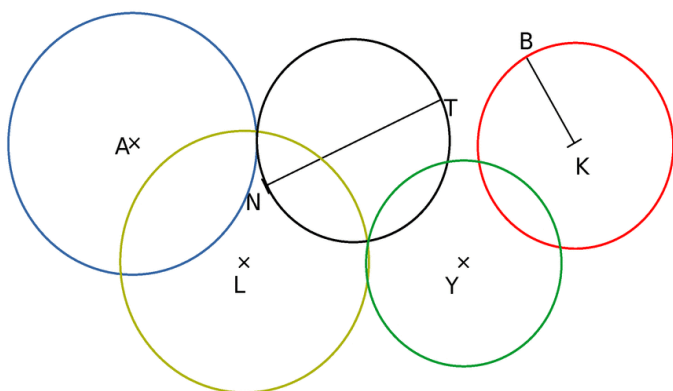


Exercice 1**7 Vocabulaire du cercle**

Complète les phrases suivantes en utilisant les mots :

- Le **cercle** (c_1) de **centre** E passe par les points A, B, C, D et F.
- Le segment [EF] est un **rayon** de ce cercle.
- Le segment [AC] est une **corde** de ce cercle.
- E est le **milieu** du **diamètre** [AD].

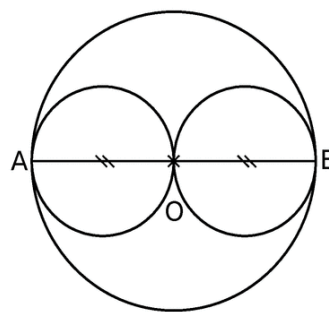
Exercice 2**8 Figures cachées**

Sur la figure ci-dessus, effectue les tracés demandés.

- Trace en bleu le cercle de centre A et de rayon 2 cm.
- Trace en rouge le cercle de rayon [BK] et de centre K.
- Trace en jaune le cercle de centre L et de diamètre 4 cm.
- Trace en noir le cercle de diamètre [NT].
- Trace en vert le cercle de centre Y et de rayon KB.

Exercice 3**9 Triplet de cercles**

- Trace un segment [AB] de longueur 4 cm.
- Marque un point O, milieu du segment [AB].
- Trace le cercle de centre O et de rayon 2 cm.
- Trace les cercles de diamètres [AO] et [OB].

**Exercice 4**

Reproduis la figure suivante :

