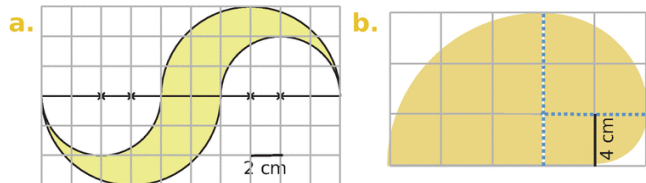


Exercice 1

Calcule le périmètre de chaque figure. Donne la valeur exacte et une valeur approchée au dixième près.



a.

.....

.....

.....

.....

.....

.....

.....

.....

.....

.....

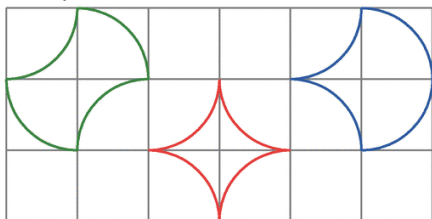
.....

.....

Exercice 2

Trio de figures

a. Vincent affirme que les trois figures ci-dessous ont le même périmètre. A-t-il raison ?



.....

b. Chaque carré a pour côté 1 cm.
Calcule le périmètre de ces trois figures.

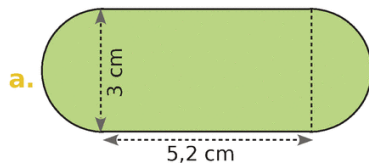
.....

.....

.....

Exercice 3

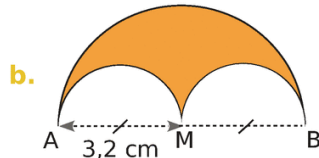
Donne une valeur approchée au dixième du périmètre de chaque figure.



.....

.....

.....



.....

.....

.....

Exercice 4

Calcule l'aire des figures des exercices 1 à 3.
Valeur exacte et valeur arrondie au centième près.

Dans l'exo1 :

Fig a

.....

Fig b

.....

Dans l'exo2 :

Fig verte

.....

Fig rouge

.....

Fig bleue

.....

Dans l'exo3 :

Fig a

.....

Fig b

.....