


Exercice 1

Sur la carte, le point A représente un arbre, le point P un puits et le point R un rocher.

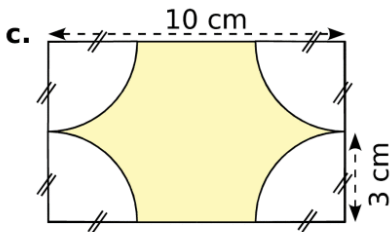
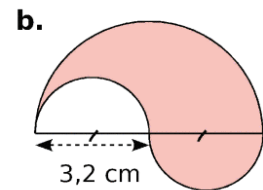
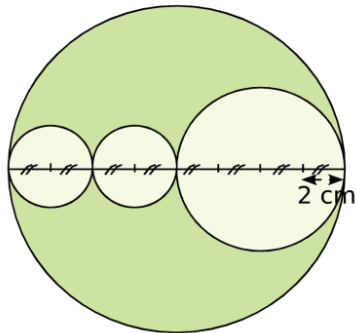
Trouve l'emplacement du trésor T sachant que le trésor est :

- à 4 cm du rocher R ;
- à plus de 4 cm de l'arbre A ;
- à moins de 2 cm du puits P.



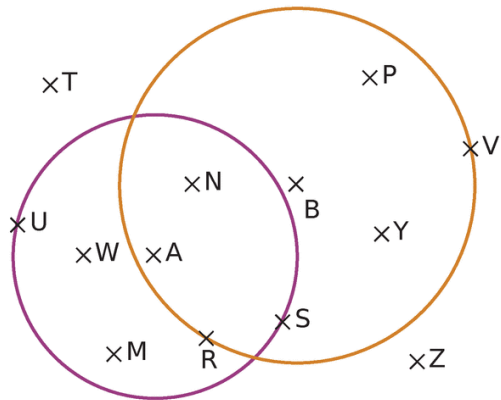
Exercice 2

a.



Exercice 3

La figure est composée de deux cercles, l'un de centre A et rayon 4 cm et l'autre de centre B et de rayon 5 cm. La figure n'est pas à l'échelle.



a. Classe les points dans le tableau ci-dessous.

Distance à A inférieure à 4 cm	Distance à A supérieure à 4 cm

b. Cite tous les points situés :

- à moins de 4 cm de A et à plus de 5 cm de B.

.....

- à plus de 4 cm de A et à moins de 5 cm de B.

.....

- à plus de 4 cm de A et à plus de 5 cm de B.

.....

- à moins de 4 cm de A et à moins de 5 cm de B.

.....

c. Colorie en bleu les points qui sont situés à la fois à moins de 4 cm de A et à plus de 5 cm de B.

d. Colorie en vert les points qui sont situés à la fois à moins de 4 cm de A et à moins de 5 cm de B.

e. Colorie en rouge les points qui sont situés à la fois à plus de 4 cm de A et à moins de 5 cm de B.

f. Cite tous les points qui appartiennent :

- au cercle violet :
- au cercle orange :
- au disque violet :
- au disque orange :