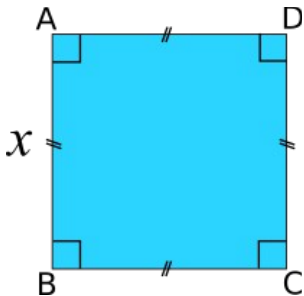


# Fiche 7

## Produire une expression littérale

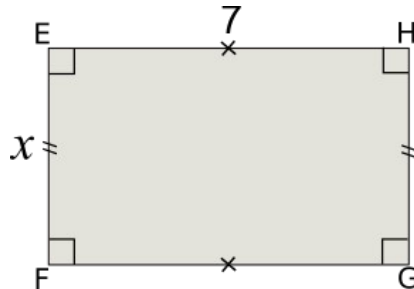
1) Écris l'**aire** de chaque figure à l'aide d'une expression littérale :

a) Aire du carré ABCD



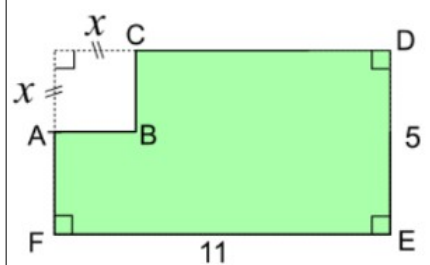
Réponse : .....

b) Aire du rectangle EFGH



Réponse : .....

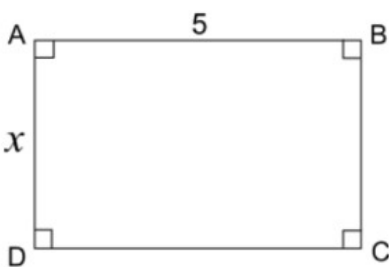
c) Aire du polygone ABCDEF



Réponse : .....

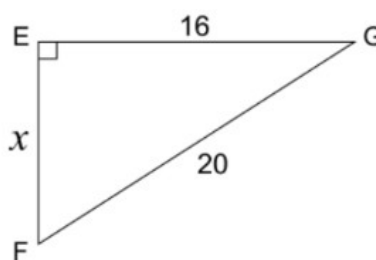
2) Écris le **périmètre** de chaque figure à l'aide d'une expression littérale :

a) Périmètre du rectangle ABCD



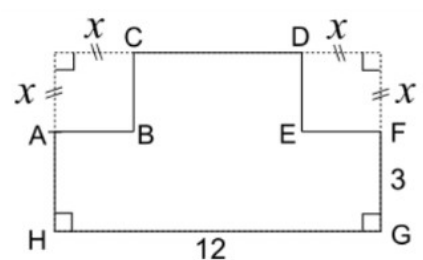
Réponse : .....

b) Périmètre du triangle EFG



Réponse : .....

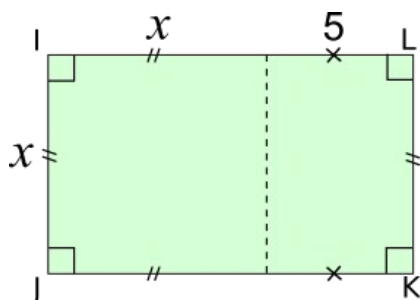
c) Périmètre du polygone ABCDEFGH



Réponse : .....

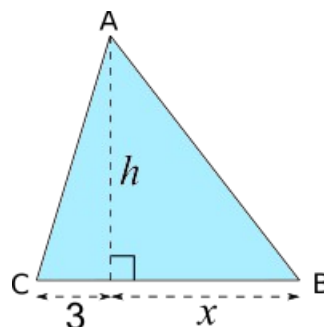
3) Écris l'**aire** de chaque figure à l'aide d'une expression littérale :

a) Aire du rectangle IJKL



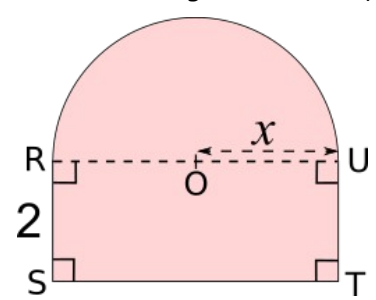
Réponse : .....

b) Aire du triangle ABC



Réponse : .....

c) Aire de la figure ci-dessous (rectangle + demi-disque)



Réponse : .....