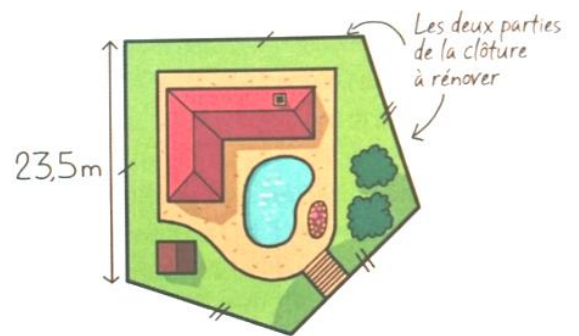


Exercice 1

Le terrain de M. et Mme Proprio a un périmètre de 99,5m.
Une partie de la clôture doit être renouvelée.

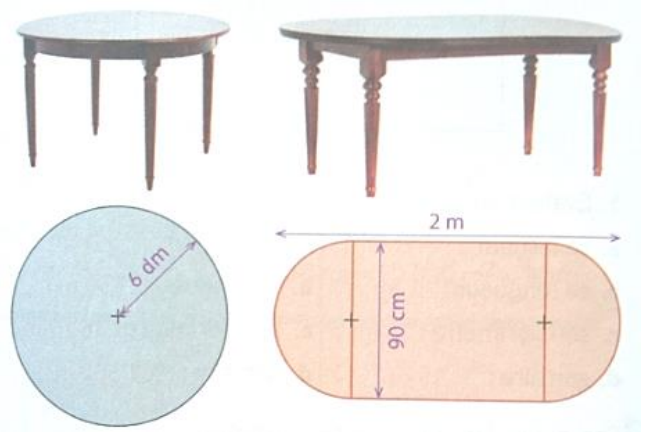
Sachant que cette rénovation revient à 50€ le mètre,
combien vont-ils payer ?

**Exercice 2**

La largeur nécessaire pour qu'une personne soit à l'aise
à table est d'environ 60cm.

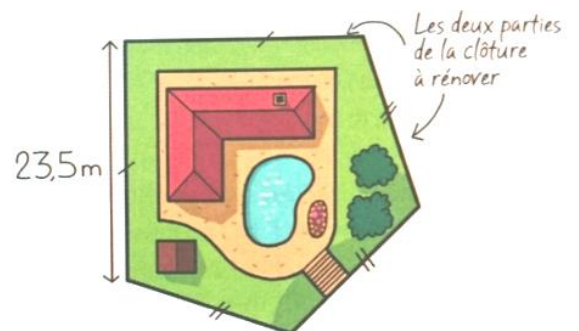
Tommy possède les deux tables rondes suivantes,
dont l'une dispose d'une rallonge.

Combien de convives peut-il recevoir chez lui
dans de bonnes conditions ?

**Exercice 1**

Le terrain de M. et Mme Proprio a un périmètre de 99,5m.
Une partie de la clôture doit être renouvelée.

Sachant que cette rénovation revient à 50€ le mètre,
combien vont-ils payer ?

**Exercice 2**

La largeur nécessaire pour qu'une personne soit à l'aise
à table est d'environ 60cm.

Tommy possède les deux tables rondes suivantes,
dont l'une dispose d'une rallonge.

Combien de convives peut-il recevoir chez lui
dans de bonnes conditions ?

